



TEMAS: Continentes y océanos, límites de Colombia, origen de la humanidad, diáspora africana del homosapiens.



La información es muy importante, para entender el tema al cual se está haciendo referencia.

1. Consulta el significado de los siguientes términos:

Continente = _____

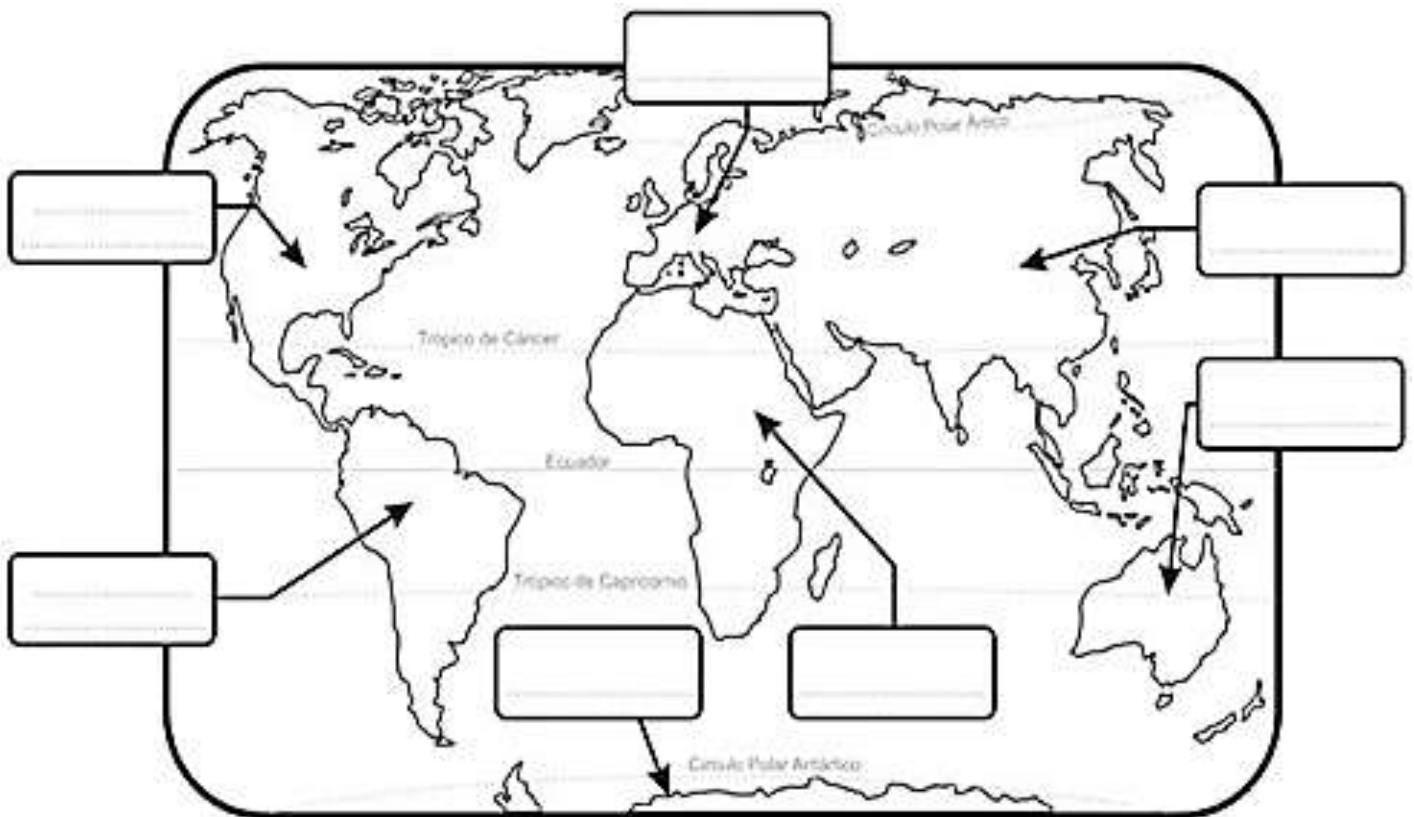
Océano = _____

País = _____

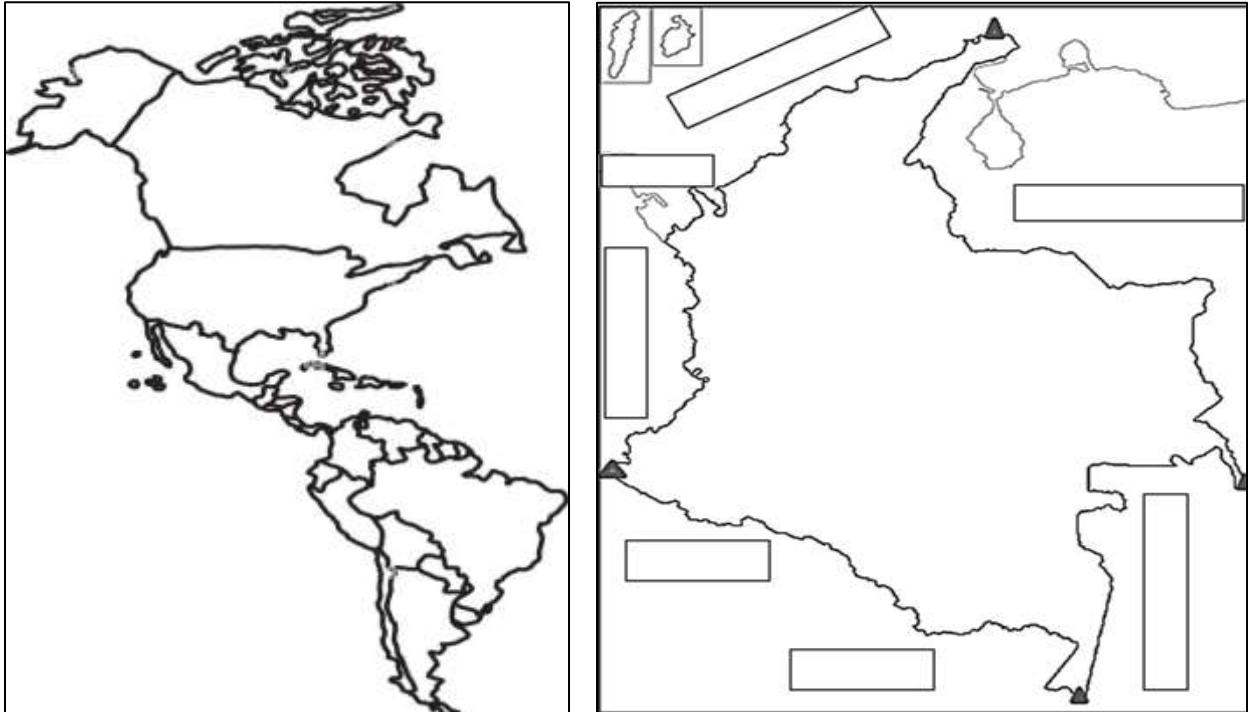
Límite = _____

Frontera = _____

2. La superficie terrestre se encuentra dividida en grandes extensiones de tierra separadas entre sí por los **océanos**. Escribe dentro de los cuadros los nombres de los continentes y ubica los nombres de los océanos donde corresponda. Colorea cada continente con un color diferente y los océanos de azul claro.




3. Los puntos cardinales conforman un sistema de referencia para ubicarnos en un mapa o en la superficie terrestre, son: Oriente (E), Occidente (OE), Norte (N) y Sur (S). En el mapa del continente americano, ubica a Colombia en América del Sur (resáltala) y señala las tres Américas. Luego, escribe las fronteras de Colombia y ubica la ciudad de Bogotá. Colorea.



EVOLUCIÓN DE LOS SERES HUMANOS

Los seres humanos hemos pasado por un proceso de evolución grande, que empezó hace más de seis millones de años y consistió en una serie de etapas y cambios, desde nuestros ancestros más antiguos hasta lo que somos en la actualidad “HOMINIZACIÓN”.



4. Observa la imagen anterior, relacionala con el tema trabajado en clase y escribe (F) o (V) según corresponda:
- ❖ (___) La imagen enseña la teoría Fijista, es decir en la que los científicos consideraban que las especies que habitaban en el planeta tierra, siempre habían sido iguales y con el tiempo no habían cambiado en ningún aspecto.
 - ❖ (___) La **hominización**, indica que los seres humanos hemos tenido un proceso de evolución - cambios en todos los aspectos.
 - ❖ (___) Los seres humanos tuvimos nuestro origen a partir de un grupo de primates del noreste de África, que permaneció en los árboles.
 - ❖ (___) Otro grupo de primates migro (se trasladó) de África hacia las llanuras, aprendieron a pararse sobre sus patas anteriores, liberando así las posteriores que vendrían a convertirse en manos.

5. Encuentra en la sopa de letras las palabras escritas en el lado izquierdo.

- HOMINIDOS
- PREHISTORIA
- PALEOLITICO
- NEOLITICO
- NOMADISMO
- SEDENTARISMO
- FOSIL
- AUSTRALOPITECUS
- HABILIS
- ERECTUS
- NEARDENTAL
- CROMAGNON
- SAPIENS
- ADAPTACION
- CAZADOR
- RECOLECTOR



o	c	i	t	i	l	o	e	l	a	p	x	h	w	l	s	g	q
n	p	a	u	y	t	z	c	a	z	a	d	o	r	q	m	x	r
s	n	i	u	g	e	l	f	u	o	a	v	p	z	r	c	o	e
b	j	r	c	n	w	k	a	s	u	s	t	z	h	s	x	a	c
d	g	o	m	s	i	r	a	t	n	e	d	e	s	u	y	j	o
t	c	t	v	i	f	b	m	r	n	l	h	x	n	t	w	a	l
x	c	s	q	e	n	k	y	a	l	e	i	g	b	c	s	p	e
v	h	i	j	z	p	u	i	l	d	x	d	q	y	e	t	c	c
s	l	h	h	s	b	o	m	o	a	s	f	r	j	r	q	i	t
o	l	e	g	o	v	b	y	p	w	n	e	x	a	e	n	o	o
d	i	r	n	w	m	n	g	i	k	e	c	u	e	e	j	m	r
i	s	p	z	t	h	o	s	t	a	i	v	n	l	q	n	s	a
n	o	j	k	g	c	n	h	e	d	p	o	u	x	e	b	i	z
i	f	g	n	k	h	g	a	c	r	a	l	e	d	u	y	d	j
m	b	v	f	c	q	a	o	u	u	s	c	j	y	g	r	a	e
o	v	w	s	i	p	m	m	s	t	n	o	b	h	a	z	m	u
h	o	t	a	s	q	o	p	h	g	f	v	y	c	m	z	o	i
x	d	e	l	k	j	r	c	h	a	b	i	l	i	s	v	n	s
u	h	f	a	j	y	c	n	o	i	c	a	t	p	a	d	a	x
h	b	n	e	o	l	i	t	i	c	o	r	l	w	d	g	f	o
e	m	u	p	y	z	w	p	d	j	u	a	m	g	o	l	e	h

El estudio de la especie humana a analizado a sus ancestros a lo largo de este proceso de hominización.

6. Completa el siguiente párrafo, basándote en las características que los homínidos van adquiriendo en este proceso evolutivo:

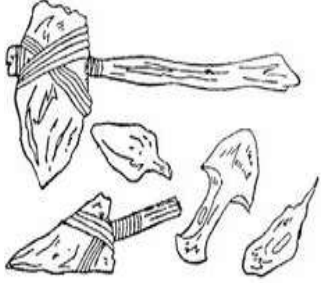
Una de las principales características que va a marcar el proceso de hominización es el _____, es decir, la capacidad de andar sobre las dos extremidades inferiores que va permitir que las _____ queden libres para elaborar herramientas.

El cerebro es más _____ y desarrolla un _____ más complejo para comunicarse.

A medida que va avanzando el proceso de hominización, la perdida del _____ corporal es mayor.

7. Completa el cuadro escribiendo o graficando la información que falta. Observa el ejemplo:

ETAPA	CARACTERÍSTICAS	REPRESENTACIÓN GRAFICA
1. Austra Lopithecus	<ul style="list-style-type: none"> • Habitaban en África. • Recolectaban frutos. • Su cerebro era pequeño. • Empezaron a practicar la caza. 	

2. Homo Hábilis	<ul style="list-style-type: none"> • _____ • _____ • _____ • _____ 	
3.	<ul style="list-style-type: none"> • Descubrieron el fuego. • Desarrollaron lenguaje básico para comunicarse. • Cubrían su cuerpo con pieles de animales. 	
4. Homo Neanderthalensis	<ul style="list-style-type: none"> • _____ • _____ • _____ 	
5.	<ul style="list-style-type: none"> • Desarrollo lenguaje complejo. • Aparece el arte (Grafías) • Aprenden con el intercambio de ideas. 	
6. Hombre Actual	<ul style="list-style-type: none"> • _____ • _____ • _____ • _____ 	

PASO DEL NOMADISMO AL SEDENTARISMO

¡IMPORTANTE! Observa y escucha atentamente el contenido del video: PASO DEL NOMADISMO a los primeros ASENTAMIENTOS AGRÍCOLAS

<https://www.youtube.com/watch?v=UwQQgO3TVvU> para contestar los puntos **8** y **9**.

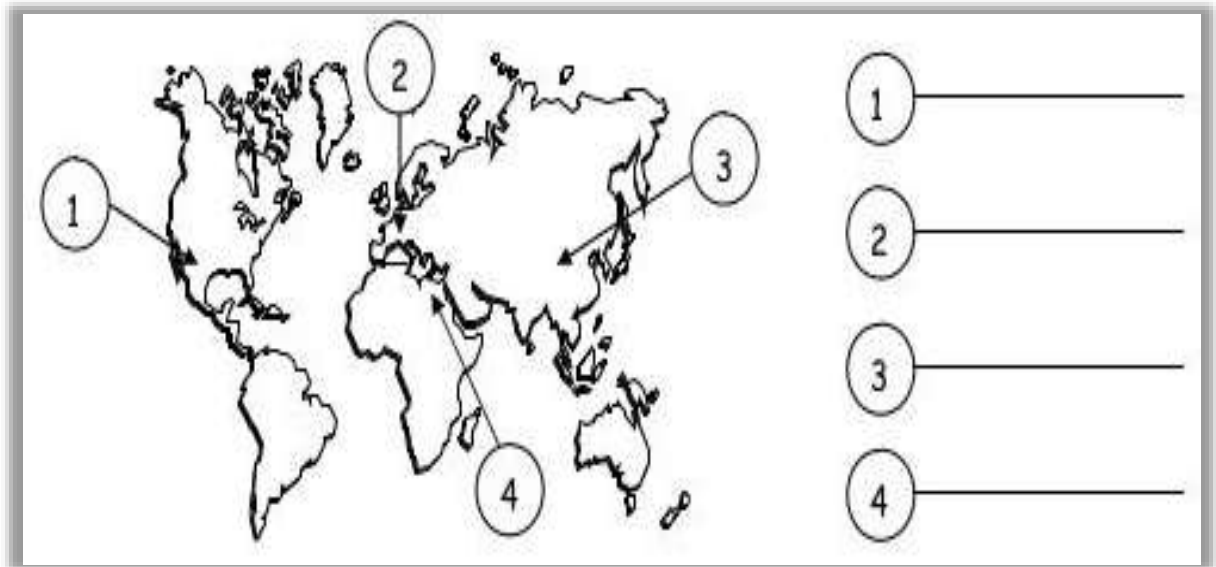
8. Utiliza tus propias palabras para contestar las siguientes preguntas:

❖ ¿Cómo manejaban inicialmente sus cultivos, los recolectores y cazadores?

❖ ¿Qué sucedió hace aproximadamente hace 10.000 años y en dónde?


❖ ¿Qué dio origen a la REVOLUCIÓN NEOLÍTICA?

9. Escribe el nombre de uno de los primeros cereales que el ser humano aprendió a cultivar en cada una de estas regiones del mundo.



Selecciona la respuesta correcta a cada pregunta.

Enumera las imágenes en orden ascendente (1, 2, 3, 4, 5) iniciando por la más bajita a la más alta. Luego, observa los instrumentos que tienen en su mano y de acuerdo a ellos identifica la que representa al HOMO ERECTUS.



10. La imagen que representa al Homo Erectus, está ubicada en el numeral

- A. 5
- B. 2
- C. 3
- D. 4

11. El descubrimiento de la agricultura tecnificada hizo que se construyeran asentamientos de familias viviendo cerca de ellas. De este modo la sociedad de cazadores – recolectores, empezaron a transformarse en

- A. cazadores nómadas.
- B. agrícolas sedentarios.
- C. agrícolas paseadores.
- D. pintores especializados.

LINKS DE CONSULTA:

- La evolución de los seres humanos. <https://www.youtube.com/watch?v=iTDXJfSSqIE>
- Hominización. <https://definicion.de/hominizacion/>
- Nómadas y sedentarios. <https://www.youtube.com/watch?v=GiESnVVArg8>
- El paso del nomadismo a los primeros asentamientos agrícolas. <https://www.youtube.com/watch?v=UwQQgO3TVvU>

Señor padre de familia:

Firme este taller sólo cuando compruebe que ha sido desarrollado totalmente

Firma: _____ Fecha: _____