



TEMA: Representación de la tierra.

SUBTEMAS: Componentes físicos del planeta: hidrosfera, geosfera, atmósfera, Planisferio y Globo terráqueo.

Nuestro planeta tierra también es conocido como el planeta azul por sus grandes océanos que la conforma.



1. Lee, responde falso o verdadero y colorea.



El planeta tierra es el tercer planeta más cercano al sol. _____

La tierra tiene un solo satélite natural llamado luna. _____

La tierra es el tercer planeta en el sistema solar. _____

La tierra tiene forma cuadrada. _____

La tierra tiene 3 continentes. _____

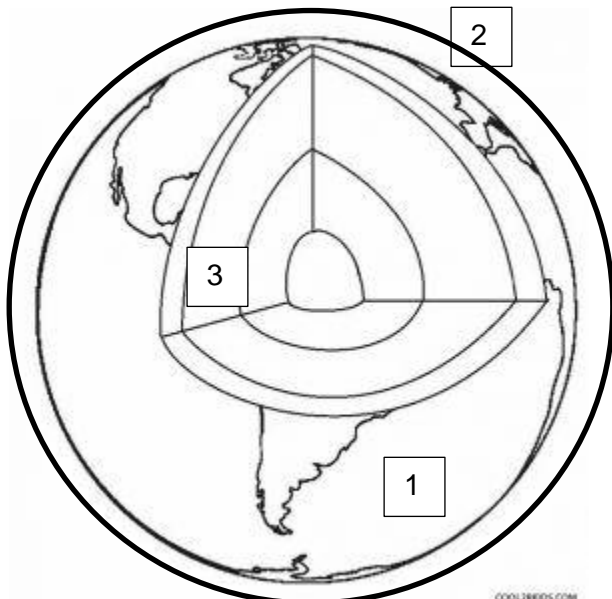
La tierra tiene 5 océanos. _____

La tierra es nuestro hogar. _____

Sabías que nuestro planeta tierra esta formado tres capas hidrosfera, geosfera y atmosfera.



2. Ubica las capas de la tierra que viste en clase. Colorea.




1. _____

2. _____

3. _____

3. Completa el crucigrama.



Horizontales

- 4. Tercer planeta del sistema solar.
- 5. Capa de aire que rodea nuestro planeta.

Verticales

- 1. Parte rocosa que llega hasta el centro de la tierra
- 2. Toda presentacion de agua en nuestro planeta tierra.
- 3. Encontramos tres y conforman el planeta tierra

El planeta tierra lo podemos encontrar representado en el **globo terráqueo** es una representación más parecida a la forma real de la tierra.



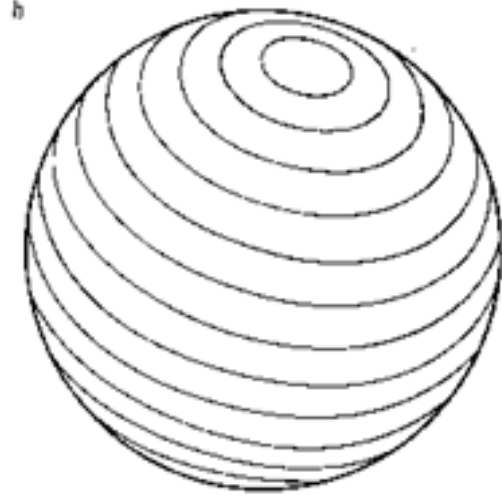
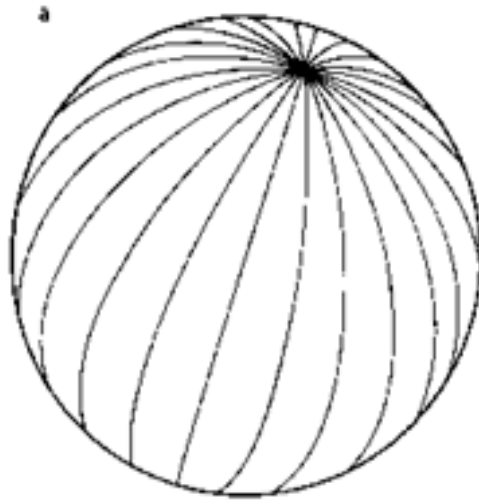
4. Observa el globo terráqueo y ubica sus partes sigue las indicaciones



- Hemisferio norte color amarillo
- Hemisferio sur color naranja
- Ecuador color rojo
- Greenwich color azul

5. Observa y repisa las partes del globo terráqueo según las indicaciones

- Polo norte color amarillo
- Polo sur color naranja
- Meridianos color rojo
- Paralelos color azul

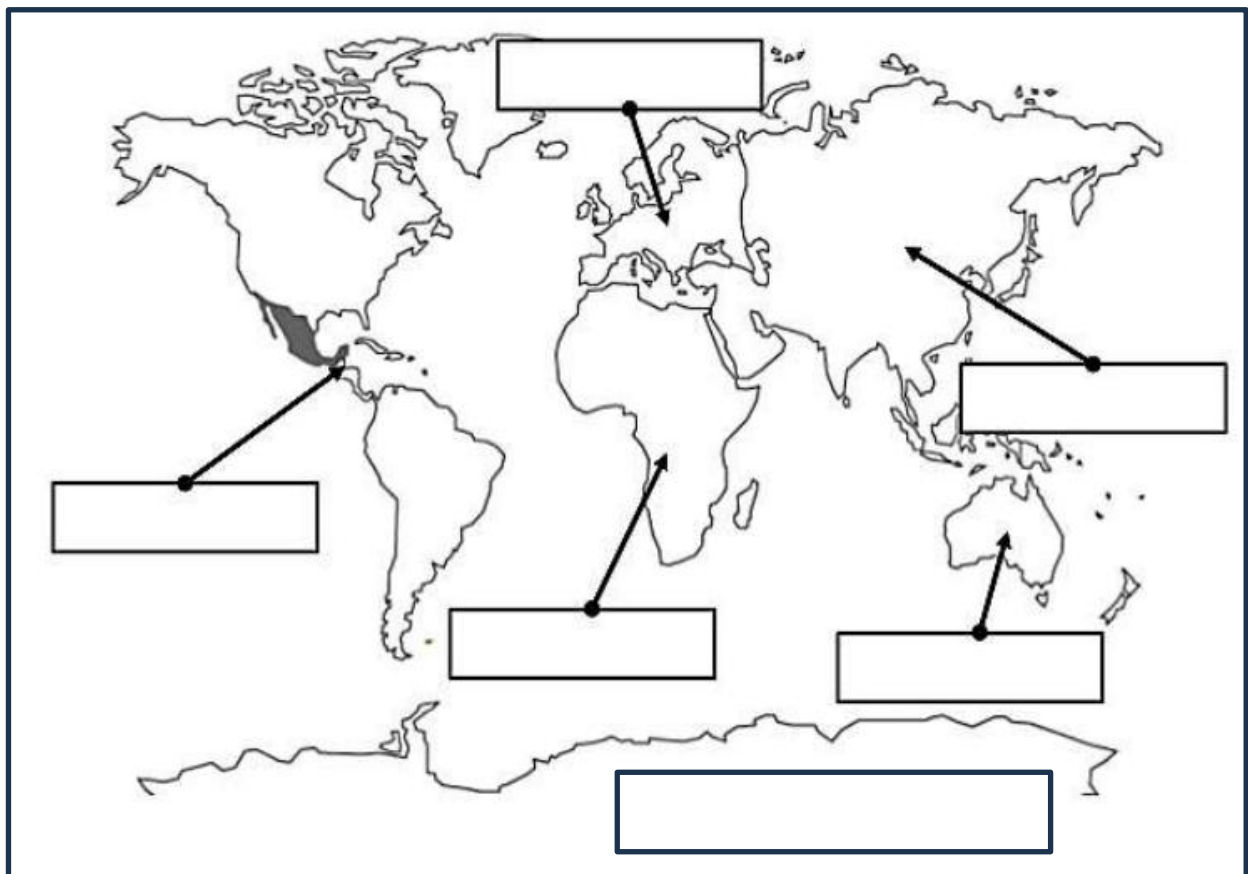


Otra forma de representación de la tierra es el **planisferio** es un mapa que representa de forma plana de la tierra y podemos ubicar más fácil continentes y océanos




6. Ubica los seis continentes y coloréalos según las indicaciones

- América:** amarillo **África:** verde **Oceanía:** Naranja **Antártida:** azul
Europa: morado **Asia:** roja



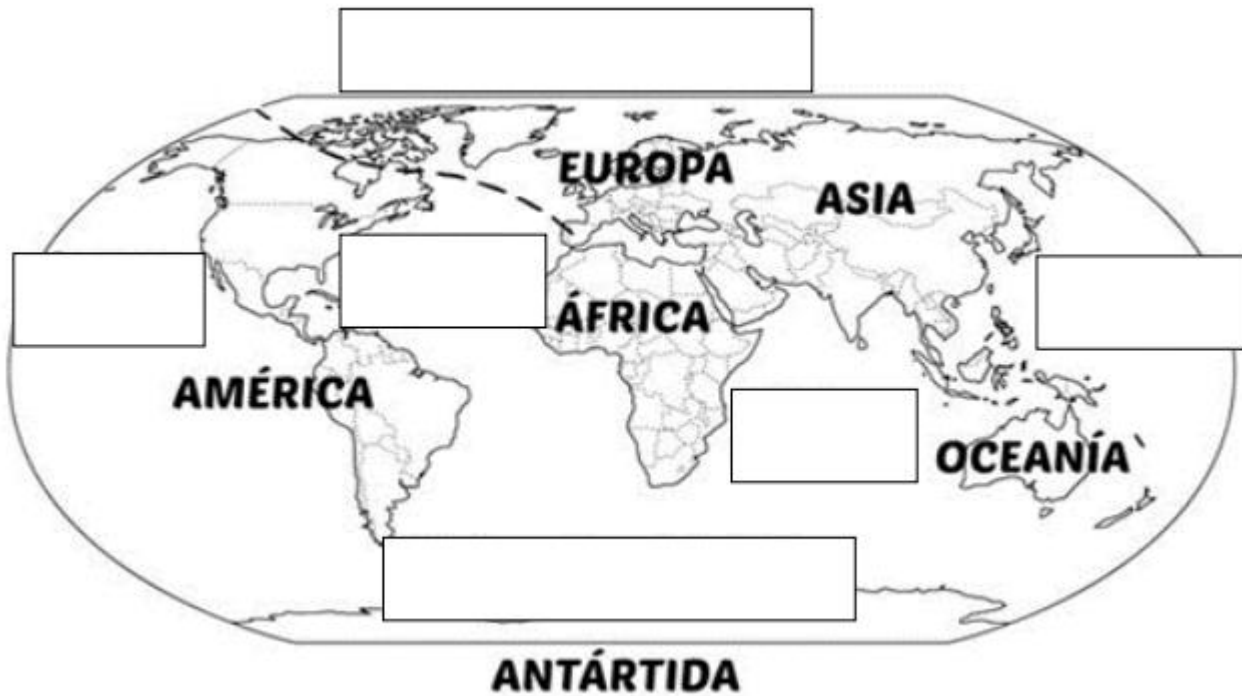
7. En la siguiente sopa de letras encuentra los nombres de los 5 océanos.



Los Océanos

1. _____
2. _____
3. _____
4. _____
5. _____

8. Ubica los océanos en el planisferio



PREGUNTAS POR COMPETENCIAS

Lee con atención y elige la respuesta correcta

La profesora de sociales pide a sus estudiantes construir el sistema solar para conocer la cantidad y ubicación de los planetas desde el más cercano al más distante al Sol.

9. Es correcto afirmar que el planeta Tierra es el planeta número



- A. dos
- B. uno
- C. tres
- D. seis.

Miguel va con su familia al museo y encontró un globo terráqueo y observó una línea que lo divide a la mitad.

10. Es correcto afirmar que la parte del globo terráqueo que encontró Miguel es un

- A. meridiano
- B. paralelo
- C. continente
- D. océano



ENLACES RELACIONADOS

- https://www.youtube.com/watch?v=a3PH5nV8n_Y 10 curiosidades de la tierra
- <https://www.youtube.com/watch?v=NUU6IPEDIdg> capas de la tierra
- <https://www.youtube.com/watch?v=wqgb3NVSigk> el globo terráqueo.
- <https://www.youtube.com/watch?v=7jiGALEJpll> el planisferio
- https://www.youtube.com/watch?v=YC76paJ1_Zs Los Continentes para niños
- <https://www.youtube.com/watch?v=BDgcYavEz-A> Los océanos para niños

Señor padre de familia:

Firme este taller sólo cuando compruebe que ha sido desarrollado totalmente

Fecha: _____